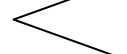


**PROBLEM ZAMANI**

1 Mehmet saat 10.00'da yatmıştır. 7.00' de başlayan iş saatinden 1 saat erken uyanmıştır. Mehmet kaç saat uyumuştur?

Çözüm:

2 Burak'ın saati, bir saatte 2 dakika geri kalıyor. Buna göre bir günde kaç saat geri kalmış olur?

Çözüm:

3 Annem saat 13.05'te fırına koyduğu tavuğu 13.49'da fırından çıkarmıştır. Tavuk kaç dakikada pişmiştir?

Çözüm:

4 Aynı duraktan kalkan iki otobüsten birinin yolculuğu 14 dakika, diğerininki 13 dakika 10 saniye sürmüştür. 2. otobüsün yolculuğu kaç dakika kısa sürmüştür?

Çözüm:

5 İstanbul'dan İzmir'e giden bir otobüsün yolculuğu 9 saat sürmüştür. Otobüs saat 15.00'te İzmir'de olduğuna göre İstanbul'dan saat kaçta yola çıkmıştır?

Çözüm:

6 1 saat 30 dakika süren Yalova-İstanbul vapur seferi saat 13.00'te olması gerekirken 15 dakika geç olmuştur. Vapur seferini saat kaçta tamamlamıştır?

Çözüm:

7 Bir uçağın yolculuğu 45 dakika sürmektedir. 6.00'da yola çıkan uçak gidiş-dönüş yapmaktadır. Kaçta geri dönmüş olur?

Çözüm:

8 Saat 11.00'de Erzurum'da olan otobüsün yolculuğu 14 saat sürmüştür. Buna göre otobüs yola saat kaçta çıkmıştır?

Çözüm:

9 Bir sınav sabah 9.30'da başlamış 2 saat 30 dakika sürmüştür. Sınav saat kaçta sona ermiştir?

Çözüm:

10 Saat 15.25'te başlayan bir sinemanın ilk yarısı 45 dakika sürmüş, 15 dakika mola verilmiştir. Filmin 2. yarısı da 50 dakika sürmüştür. Buna göre film kaçta bitmiştir?

Çözüm:

11 Betül her gün 5 saat 30 dakika okulda durmaktadır. Buna göre 5 gün boyunca toplam kaç saat okulda kalmış olur?

Çözüm:

12 2 saat 15 dakika boyunca dersanede kalan Emre'nin dersi saat 14.00'te başlamıştır. Emre'nin dersi saat kaçta bitmiştir?

Çözüm:

KAÇ DAKİKA?

1 Bu yıl TBMM'nin kaçınıcı yılını kutluyoruz?

Çözüm:

6 Bir dakikada 80 metre koşan bir sporcu 15 saniyede kaç metre koşar?

Çözüm:

2 Ayla okuldan 5.45'te çıkmıştır. Okulda 4 saat 15 dakika kaldığına göre Ayla okula saat kaçta gitmiştir?

Çözüm:

7 29 Şubat 2004 yılında doğan Buse 2016 yılına kadar kaç kez 29 Şubat doğum günü kutlamış olur?

Çözüm:

3 Semih 45 dakika parkta oynamış, 25 dakika kitap okumuş, 1 saat ders çalışmıştır. Semih parka saat 10.00'da gittiğine göre ders çalışmayı bitirdiğinde saat kaç olur?


Çözüm:

8 7.10'da evden çıkan Sinem 15 dakika otobüs beklemiştir. Otobüs ile 46 dakikada işine vardığına göre saat kaçta işte olur?

Çözüm:

4 Berk her gün saat 9.00 - 9.40 arası yüzme kursuna gitmektedir. Berk bir hafta boyunca kaç saat yüzme kursunda kalır?


Çözüm:

9  Yandaki saati kullanarak bir problem kurun ve çözün.

.....
.....
.....

5 Bir müze hafta içi 11.00 - 16.00 arası açıktır. Cumartesi günü 12.00 - 16.00 arası açık olan müze Pazar günü kapalıdır. Müze haftada kaç saat açıktır?

Çözüm:

10  Yandaki görselle ilgili bir problem kurarak çözün.

Son K.T. 17.03. 2013

.....
.....

13.30

4s 40 dk

08.11

20 m

392

3 kez

29

12.10